

Daftar isi

Kata pengantar	5
Prakata untuk anak	6
Apa isi buku ini?	7
Daftar isi	8
BAB 1	
A. Membilang banyak benda 1 sampai 10	11
B. Membandingkan dan mengurutkan banyak benda	16
C. Penjumlahan bilangan dengan hasil sampai 10	20
D. Pengurangan bilangan sampai dengan 10	25
E. Membilang banyak benda 11 sampai 20	28
F. Penjumlahan dan pengurangan bilangan sampai 20	39
G. Penjumlahan dan pengurangan bilangan nol	46
H. Penyelesaian masalah operasi hitung	47
Uji latih mandiri	48
BAB 2	
A. Mengenal waktu, pagi, siang, sore, dan malam	51
B. Mengenal ukuran waktu	52
C. Mengenal nama hari dalam seminggu	54
D. Menghubungkan hari-hari dalam sepekan	55
E. Mengenal nama bulan dan mengurutkannya	56
F. Membaca tanda waktu jam	59
G. Menyatakan lama waktu dalam satuan jam	62
H. Mengenal panjang benda	63
I. Membandingkan panjang benda	65
J. Mengukur panjang benda	68
K. Menyelesaikan masalah waktu dan pengukuran	69
Uji latih mandiri	71



$$2+2=4$$



BAB 3

A. Mengenal bangun ruang	74
B. Mengelompokkan bangun ruang	80
Uji latih mandiri	81

BAB 4

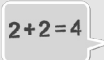
A. Mengenal bilangan 21 sampai 100	85
B. Membaca lambang bilangan 51 sampai 100	93
C. Mengurutkan bilangan	95
D. Nilai tempat	96
E. Penjumlahan	98
F. Pengurangan	101
G. Sifat pertukaran dan pengelompokkan	104
Uji latih mandiri	107

BAB 5

A. Mengenal berat benda	110
B. Membandingkan berat benda dengan neraca	110
C. Mengukur berat benda	112
D. Menunjukkan perbedaan hasil pengukuran	113
Uji latih mandiri	115

BAB 6

A. Mengenal bangun datar	117
Uji latih mandiri	122



2. Mengurutkan banyak benda

Perhatikan urutan banyak benda berikut!

Urutan banyak kue dari yang paling sedikit.



satu


dua

tiga

empat

lima

Urutan banyak susu dari yang paling banyak.



lima

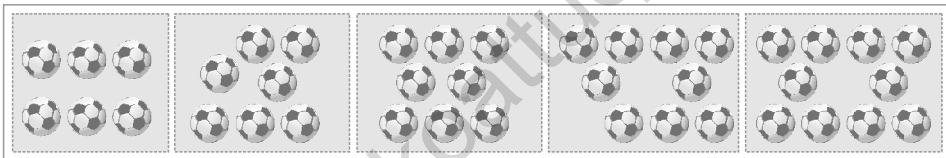
empat

tiga

dua

satu

Urutan banyak bola dari yang paling sedikit.



enam


tujuh

delapan

sembilan

sepuluh

Urutan banyak bunga dari yang paling banyak.



sepuluh

sembilan

delapan

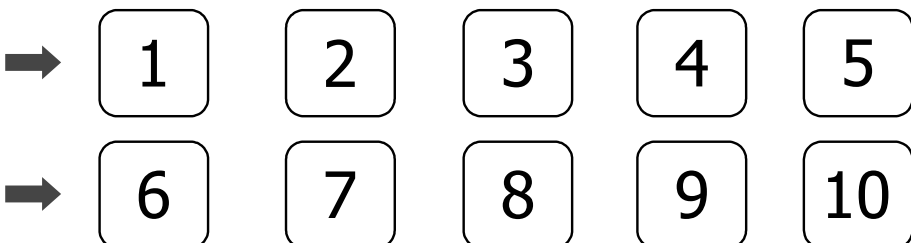
tujuh

enam

Dengan mengurutkan banyak benda didapatkan urutan bilangan.

Perhatikan urutan bilangan berikut!

Urutan bilangan dari yang terkecil:



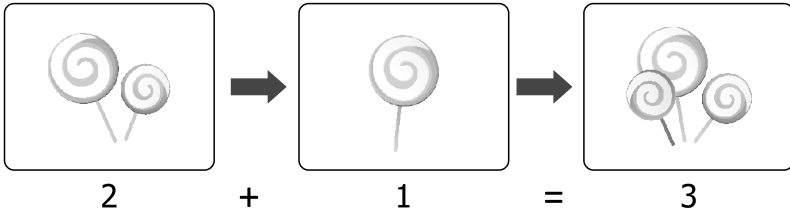
$2+2=4$



1. Membaca dan menggunakan tanda "+" dan "="

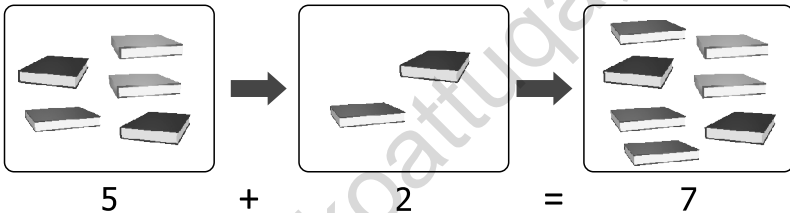
Contoh:

1. Abdurrahman mempunyai 2 permen.
Hamzah memberi Abdurrahman 1 permen.



Permen Abdurrahman sekarang bertambah banyak menjadi 3 buah.

2. Aisyah mempunyai 5 buku.
Ia membeli 2 buku lagi.

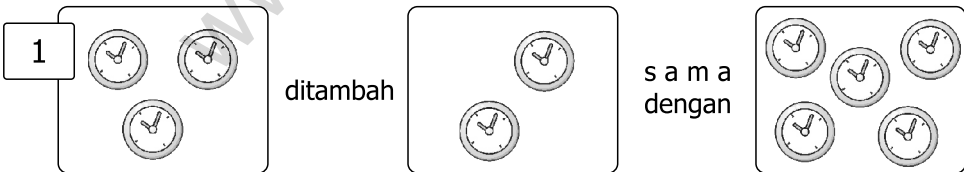


Bukunya sekarang bertambah banyak menjadi 7 buah.



Mari berlatih 9

Tuliskan bentuk penjumlahannya!




+

=

.....

.....

.....



+

=

.....

.....

.....



2+2=4



- | | |
|--|--|
| <p>2. 2 apel
<u>3 apel</u> +
... apel</p> <p>3. 3 rambutan
<u>4 rambutan</u> +
... rambutan</p> <p>4. 5 salak
<u>5 salak</u> +
... salak</p> <p>5. 6 anggur
<u>3 anggur</u> +
... anggur</p> | <p>7. 5 durian
3 durian
<u>2 surian</u> +
... durian</p> <p>8. 4 nanas
3 nanas
<u>1 nanas</u> +
... nanas</p> <p>9. 4 semangka
4 semangka
<u>2 semangka</u> +
... semangka</p> <p>10. 3 jeruk
6 jeruk
<u>1 jeruk</u> +
... jeruk</p> |
|--|--|

D. Pengurangan bilangan sampai dengan 10

1. Membaca dan menggunakan tanda "-" dan "="



Pohon jeruk paman kemarin buahnya ada 5. Pagi harinya buah jeruk itu jatuh 2. Berapakah banyak buah jeruk paman yang masih di pohon?

lima jeruk dikurangi dua jeruk menjadi tiga jeruk
5 - 2 = 3

Jadi, buah jeruk paman yang tersisa sekarang **3 buah**.



Mari berlatih 14

Ayo, isilah titik-titik berikut!

1.



dikurangi



sama dengan



.....

-

.....

=

.....



$$2+2=4$$





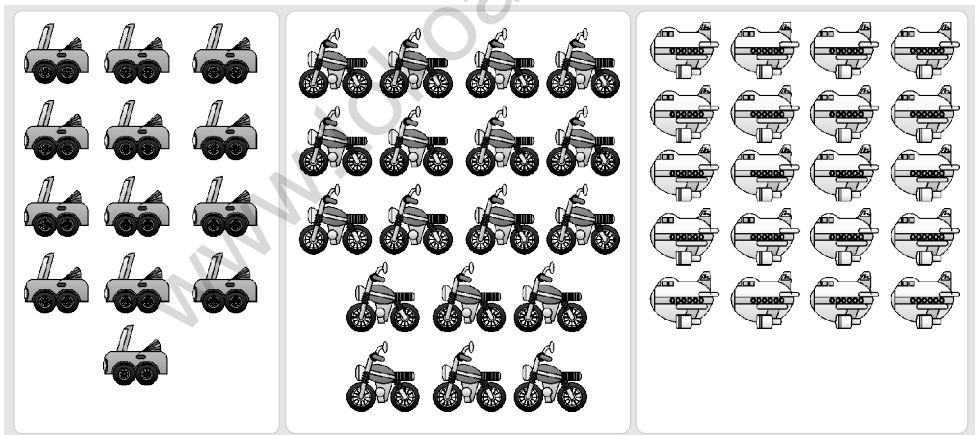
Mari berlatih 18

Kerjakan soal-soal di bawah ini seperti contoh!

1. $5 + 2 - 4 = \dots$
2. $6 + 3 - 2 = \dots$
3. $9 - 5 + 4 = \dots$
4. $8 - 4 + 2 = \dots$
5. $5 - 4 + 9 = \dots$
6. $10 - 5 + 2 = \dots$
7. $9 + 1 - 4 = \dots$
8. $8 - 5 + 2 = \dots$
9. $7 + 2 - 6 = \dots$
10. $6 + 4 - 9 = \dots$

E. Membilang banyak benda 11 sampai 20

Kalian telah belajar membaca dan menulis lambang bilangan 1 sampai 10. Sekarang kalian akan mulai belajar Membaca lambang bilangan 11 sampai 20.



Berapa banyak mobil-mobilan pada gambar?
 Berapa banyak motor-motoran pada gambar?
 Berapa banyak pesawat-pesawatn pada gambar?
 Ayo, kita belajar berhitung.



Uji latih mandiri

Ayo, kerjakan soal-soal berikut pada buku tugasmu!

A. Pilihlah jawaban yang paling tepat!

1. Lambang bilangan dari lima belas adalah ...
 a. 5 b. 15 c. 13

2. Nama bilangan dari 17 adalah ...
 a. Tujuh belas
 b. Sembilan belas
 c. Sebelas

3.

9	8	7	6	10
---	---	---	---	----

 Urutan bilangan di atas dari yang terbesar adalah ...
 a. 9 8 7 6 10
 b. 8 7 6 10 9
 c. 10 9 8 7 6

4. 
 Banyaknya bunga pada gambar di atas adalah ...
 a. 15 b. 16 c. 17

5.

18	14	16	15	17
----	----	----	----	----

 Urutan bilangan di atas dari yang terkecil adalah ...
 a. 15 16 17 18 14
 b. 14 15 16 17 18
 c. 18 17 16 15 14

6. $3 + 9 = \dots$
 a. 11 b. 12 c. 13

7.
$$\begin{array}{r} 13 \\ \underline{2} \\ \dots \end{array} +$$

 a. 14 b. 15 c. 16



8. $18 - 5 = \dots$
a. 11 b. 12 c. 13
9. $\begin{array}{r} 17 \\ - 6 \\ \hline \dots \end{array}$
a. 9 b. 10 c. 11

B. Jawablah pertanyaan di bawah ini dengan benar!

1. Ummi memiliki 10 piring, 13 sendok, dan 7 garpu.
Benda manakah yang paling banyak?
2. Di dalam lemari es ada 17 anggur. Ibrahim mengambil 5 anggur. Maryam mengambil 2 anggur. Berapakah sisa anggur sekarang?
3. Di dapur ada 12 piring yang kotor. Fathimah mencuci 6 piring. Berapa banyak piring yang belum dicuci?
4. Azam mempunyai 12 kelereng. Muhammad mempunyai 8 kelereng. Jumlah kelereng mereka adalah . . .
5. Yahya mempunyai 8 kelereng. Ia berikan kepada adiknya 3 buah. Berapakah sisa kelereng Yahya sekarang?

